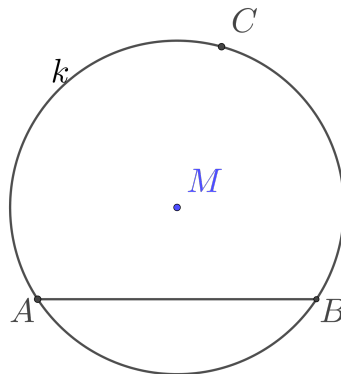


**Was passiert mit dem Winkel bei C?**

**Fall 1:** Die Sehne  $\overline{AB}$  ist unter dem Mittelpunkt  $M$ .

Zeichne den Winkel bei  $C$  ein.

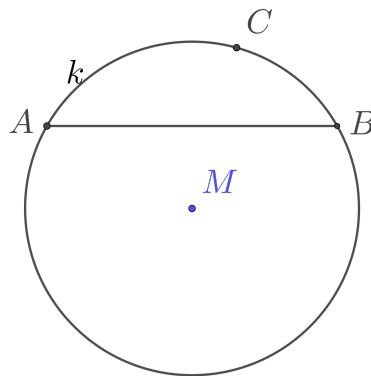


Ist der Winkel bei  $C$  spitz, stumpf oder eine Rechter Winkel?

Der Winkel bei  $C$  ist ein ..... Winkel.

**Fall 2:** Die Sehne  $\overline{AB}$  ist über dem Mittelpunkt  $M$ .

Zeichne den Winkel bei  $C$  ein.

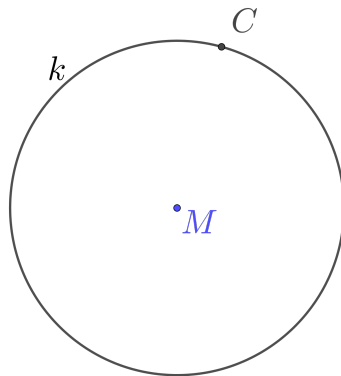


Ist der Winkel bei  $C$  spitz, stumpf oder eine Rechter Winkel?

Der Winkel bei  $C$  ist ein ..... Winkel.

**Fall 3:** Der Fall dazwischen.

Welcher Fall dazwischen wäre nach deiner Meinung wichtig? Zeichne ihn ein.



Der Winkel bei  $C$  ist ein ..... Winkel.